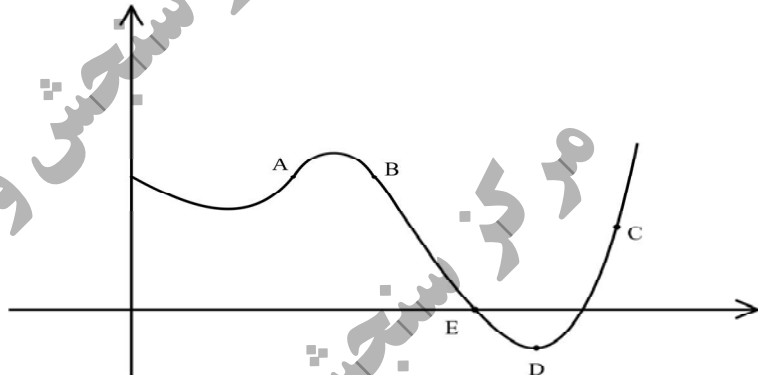
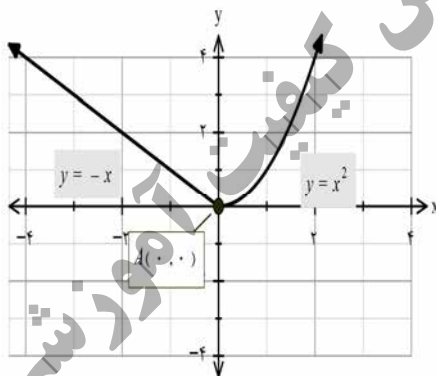


سؤالات امتحان نهایی درس : ریاضی ۳		رشته : علوم تجربی		ساعت شروع: ۱۰ صبح		تعداد صفحه: ۳	
پایه دوازدهم دوره دوم متوسطه		نام و نام خانوادگی :		تاریخ امتحان: ۱۳۹۹/۱۰/۲۷		مدت امتحان: ۱۲۰	
دانش آموزان روزانه، بزرگسال و داوطلبان آزاد در نوبت دی ماه سال ۱۳۹۹				مرکز سنجش و پایش کیفیت آموزشی http://aee.medu.ir			
ردیف		سؤالات (پاسخ نامه دارد)		(استفاده از ماشین حساب ساده مجاز می باشد)			
				نمره			

۱	درستی یا نادرستی عبارتهای زیر را مشخص کنید. الف) دامنه تابع با ضابطه $y = k f(x)$ همان دامنه تابع $y = f(x)$ است. ب) در تقسیم چند جمله ای $p(x)$ بر $x - a$ ، باقیمانده برابر $p(a)$ است.	۰/۵
۲	در جاهای خالی عبارت ریاضی مناسب قرار دهید. الف) در بازه $(0, 1)$ ، نمودار تابع $y = x^3$ ، نمودار تابع $y = x^2$ قرار دارد. ب) اگر $h(x) = 3x^4 + 2x^2 - 1$ باشد، آنگاه $h''(1)$ برابر است.	۰/۵
۳	با توجه به نمودارهای تابع f, g به سؤالات زیر پاسخ دهید: الف) مقدار $f \circ g(-1)$ را محاسبه کنید. ب) اگر $g(3t - 1) = 0$ آنگاه مقدار t را به دست آورید. پ) با محدود کردن دامنه f ، بازه ای را مشخص کنید که تابع f یک به یک شود.	۱/۵
۴	ضابطه وارون تابع $g(x) = -5 - \sqrt{3x + 1}$ را به دست آورید.	۱
۵	الف) دوره تناوب و مقادیر ماکزیمم و مینیمم تابع زیر را به دست آورید. (راه حل نوشته شود) $y = 8 \cos\left(\frac{x}{3}\right)$ ب) مقدار عددی $\sin 15^\circ$ را محاسبه کنید.	۱/۷۵
۶	معادله مثلثاتی $\sin x \cos x = \frac{\sqrt{3}}{4}$ را حل کنید.	۱/۲۵
۷	حد توابع زیر را در صورت وجود محاسبه کنید. الف) $\lim_{x \rightarrow 5} \frac{2 - \sqrt{x-1}}{x-5}$ ب) $\lim_{x \rightarrow 3^-} \frac{[x] - 3}{x - 3}$	۱/۷۵
«ادامه سؤالات در صفحه دوم»		

سؤالات امتحان نهایی درس : ریاضی ۳		رشته : علوم تجربی		ساعت شروع: ۱۰ صبح		تعداد صفحه: ۳	
پایه دوازدهم دوره دوم متوسطه		نام و نام خانوادگی :		تاریخ امتحان: ۱۳۹۹/۱۰/۲۷		مدت امتحان: ۱۲۰	
دانش آموزان روزانه، بزرگسال و داوطلبان آزاد در نوبت دی ماه سال ۱۳۹۹				مرکز سنجش و پایش کیفیت آموزشی http://aee.medu.ir			
ردیف		سؤالات (پاسخ نامه دارد)		(استفاده از ماشین حساب ساده مجاز می باشد)			
نمره							

۸	نقاط داده شده روی منحنی زیر را با شیب های ارائه شده در جدول نظیر کنید. (یک نقطه اضافی است).	۱										
	 <table border="1" data-bbox="277 422 511 770"> <thead> <tr> <th>شیب</th> <th>نقطه</th> </tr> </thead> <tbody> <tr> <td>-۳</td> <td></td> </tr> <tr> <td>-۱</td> <td></td> </tr> <tr> <td>۰</td> <td></td> </tr> <tr> <td>۱</td> <td></td> </tr> </tbody> </table>	شیب	نقطه	-۳		-۱		۰		۱		
شیب	نقطه											
-۳												
-۱												
۰												
۱												
۹	مشتق تابع های زیر را به دست آورید. (ساده کردن مشتق الزامی نیست)	۱/۵										
	الف) $f(x) = \left(\frac{x^2}{3x-1}\right)^5$ ب) $g(x) = (\sqrt{3x+2})(x^3+1)$											
۱۰	با محاسبه مشتق چپ و راست تابع داده شده در نقطه A، نشان دهید این تابع در نقطه A مشتق پذیر نیست.	۱/۲۵										
												
۱۱	معادله حرکت متحرکی به صورت $f(t) = t^2 - t + 10$ بر حسب متر در بازه زمانی $[0, 5]$ (بر حسب ثانیه) داده شده است. در کدام لحظه سرعت لحظه ای با سرعت متوسط در بازه زمانی $[0, 5]$ با هم برابرند؟	۱										
۱۲	در تابع زیر، ابتدا نقاط بحرانی تابع را به دست آورید و سپس با رسم جدول تغییرات تابع، نقاط ماکزیمم و مینیمم نسبی آن را در صورت وجود مشخص کنید.	۲										
	$f(x) = x^3 + 3x^2 - 9x - 10$											
۱۳	نشان دهید در بین تمام مستطیل های با محیط ثابت ۱۴ سانتی متر، مستطیلی بیش ترین مساحت را دارد که طول و عرض آن هم اندازه باشد.	۱										
«ادامه سؤالات در صفحه سوم»												

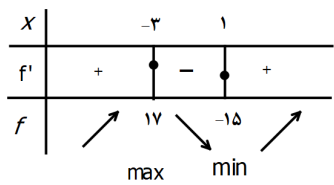
سؤالات امتحان نهایی درس : ریاضی ۳		رشته : علوم تجربی		ساعت شروع: ۱۰ صبح		تعداد صفحه: ۳	
پایه دوازدهم دوره دوم متوسطه		نام و نام خانوادگی :		تاریخ امتحان: ۱۳۹۹/۱۰/۲۷		مدت امتحان: ۱۲۰	
دانش آموزان روزانه، بزرگسال و داوطلبان آزاد درنوبت دی ماه سال ۱۳۹۹				مرکز سنجش و پایش کیفیت آموزشی http://aee.medu.ir			
ردیف		سؤالات (پاسخ نامه دارد)		(استفاده از ماشین حساب ساده مجاز می باشد)			
				نمره			

۱۴	خروج از مرکز یک بیضی افقی $\frac{4}{5}$ ، مرکز آن $(-4, -1)$ و طول قطر کوچک این بیضی ۶ واحد است. الف) طول قطر کانونی و فاصله کانونی را محاسبه کنید. ب) مختصات نقاط دو سر قطر بزرگ را پیدا کنید.	۱/۵
۱۵	اگر معادله دایره به شکل $x^2 + y^2 + (x+1)^2 = 4$ باشد: الف) مختصات مرکز دایره و اندازه شعاع دایره را بنویسید. ب) مختصات تقاطع دایره با محور x ها را پیدا کنید.	۱
۱۶	سه ظرف یکسان داریم. ظرف اول شامل ۵ مهره ی قرمز و ۳ مهره ی آبی و ظرف دوم شامل ۴ مهره ی آبی و ظرف سوم شامل ۶ مهره ی قرمز است. با چشم بسته یکی از ظرف ها را انتخاب کرده و از آن یک مهره بیرون می آوریم. احتمال آن که مهره انتخابی آبی باشد چقدر است؟	۱/۵
۲۰	"موفق باشید"	جمع نمره

راهنمای تصحیح امتحان نهایی درس: ریاضی ۳	رشته: علوم تجربی	ساعت شروع: ۱۰ صبح	مدت امتحان: ۱۲۰ دقیقه
پایه دوازدهم دوره دوم متوسطه		تاریخ امتحان: ۱۳۹۹/۱۰/۲۷	
دانش آموزان روزانه، بزرگسال و داوطلبان آزاد در نوبت دی ماه سال ۱۳۹۹		مرکز سنجش و پایش کیفیت آموزشی http://aee.medu.ir	

ردیف	راهنمای تصحیح	نمره
۱	الف) درست صفحه: ۱۵ و ۵۰ ب) درست هر مورد ۰/۲۵	۰/۵
۲	الف) پایین صفحه: ۴ و ۹۲ ب) ۴۰ هر مورد ۰/۲۵	۰/۵
۳	الف) ب) پ) بازه $[-۲, +\infty)$ (۰/۵) صفحه: ۲۹ و ۲۳	۱/۵
۴	$-۵ - \sqrt{3x+1} = y \Rightarrow 3x+1 = (y+5)^2$ (۰/۵) $\Rightarrow x = \frac{(y+5)^2 - 1}{3} \Rightarrow g^{-1}(x) = \frac{(x+5)^2 - 1}{3}$ (۰/۵) $D_{g^{-1}} = (-\infty, -5]$ صفحه: ۲۹	۱
۵	الف) $T = \frac{2\pi}{ b } = \frac{2\pi}{\left \frac{1}{3}\right } = 6\pi$ (۰/۵) $\min = - a + c$ (۰/۲۵) $\max = a + c$ (۰/۲۵) $\min = -8$ (۰/۲۵) ب) $\sin 15 = \sqrt{\frac{1 - \cos 30}{2}} = \frac{\sqrt{2 - \sqrt{3}}}{2}$ (۰/۲۵) صفحه: ۴۰ و ۴۳	۱/۲۵ ۰/۵
۶	$2 \sin x \cos x = \frac{\sqrt{3}}{2}$ (۰/۲۵) $\Rightarrow \sin 2x = \sin \frac{\pi}{3} \Rightarrow$ (۰/۵) $\Rightarrow \Rightarrow \begin{cases} x = k\pi + \frac{\pi}{6} & (۰/۲۵) \\ x = k\pi + \frac{\pi}{2} - \frac{\pi}{6} & (۰/۲۵) \end{cases}$ صفحه: ۴۷	۱/۲۵
۷	الف) $\lim_{x \rightarrow 5} \frac{(2 - \sqrt{x-1})(2 + \sqrt{x-1})}{(x-5)(2 + \sqrt{x-1})}$ (۰/۵) $= \lim_{x \rightarrow 5} \frac{-(x-5)}{(x-5)(2 + \sqrt{x-1})} = \frac{-1}{4}$ (۰/۵) ب) $\lim_{x \rightarrow 3^-} \frac{-1}{x-3} = \frac{-1}{0^-} = +\infty$ (۰/۵) صفحات: ۵۲ و ۵۷	۱ ۰/۷۵

راهنمای تصحیح امتحان نهایی درس: ریاضی ۳	رشته: علوم تجربی	ساعت شروع: ۱۰ صبح	مدت امتحان: ۱۲۰ دقیقه
پایه دوازدهم دوره دوم متوسطه		تاریخ امتحان: ۱۳۹۹/۱۰/۲۷	
دانش آموزان روزانه، بزرگسال و داوطلبان آزاد در نوبت دی ماه سال ۱۳۹۹		مرکز سنجش و پایش کیفیت آموزشی http://aee.medu.ir	

ردیف	راهنمای تصحیح	نمره
۸	هر مورد درست (۰/۲۵) صفحه ۷۵	۱
۹	الف) $f'(x) = \underbrace{5}_{(0/25)} \underbrace{\left(\frac{2x(3x-1) - 3x^2}{(3x-1)^2} \right)}_{(0/5)}$ ب) $g'(x) = \underbrace{\left(\frac{3}{2\sqrt{3x+2}} \right)}_{(0/5)} (x^2 + 1) + \underbrace{3x^2(\sqrt{3x+2})}_{(0/25)}$ صفحه: ۸۸ و ۹۲	۰/۷۵ ۰/۷۵
۱۰	$f'_+(\cdot) = \lim_{x \rightarrow \cdot^+} \frac{x^2 - \cdot}{x - \cdot} = \cdot \quad (0/5)$ $\Rightarrow f'_+(\cdot) \neq f'_-(\cdot) \quad (0/25)$ $f'_-(\cdot) = \lim_{x \rightarrow \cdot^-} \frac{-x - \cdot}{x - \cdot} = -1 \quad (0/5)$ $f'(\cdot)$ موجود نیست. صفحه ۹۲	۱/۲۵
۱۱	$\frac{\Delta f}{\Delta x} = \frac{f(5) - f(\cdot)}{5 - \cdot} \quad (0/25) = 4 \quad (0/25) \Rightarrow f'(t) = 2t - 1 = 4 \quad (0/25) \Rightarrow t = \frac{5}{2} \quad (0/25)$ صفحه: ۱۰۰	۱
۱۲	تکمیل جدول یک نمره $f'(x) = 3x^2 + 6x - 9 = 0 \quad (0/5) \begin{cases} x=1 \\ x=-3 \end{cases} \quad (0/5)$  صفحه: ۱۱۲	۲
۱۳	$f = xy \rightarrow \overbrace{f(x) = x(7-x) = -x^2 + 7x}^{(0/25)} \rightarrow \overbrace{f'(x) = -2x + 7 = 0}^{(0/25)}$ $\rightarrow x = \frac{7}{2} \quad (0/25), \quad y = \frac{7}{2} \quad (0/25)$ صفحه: ۱۱۴	۱

راهنمای تصحیح امتحان نهایی درس: ریاضی ۳	رشته: علوم تجربی	ساعت شروع: ۱۰ صبح	مدت امتحان: ۱۲۰ دقیقه
پایه دوازدهم دوره دوم متوسطه		تاریخ امتحان: ۱۳۹۹/۱۰/۲۷	
دانش آموزان روزانه، بزرگسال و داوطلبان آزاد در نوبت دی ماه سال ۱۳۹۹		مرکز سنجش و پایش کیفیت آموزشی http://aee.medu.ir	

ردیف	راهنمای تصحیح	نمره
۱۴	الف) $(\cdot/25) \Rightarrow a=5, c=4$ $ff' = 8$ $(\cdot/25)$ ب) $c = \frac{4}{5}a$ $(\cdot/25) \Rightarrow 9 + \frac{16}{25}a^2 = a^2$ $(\cdot/25) \Rightarrow a=5, c=4$ $A(1, -1), A'(-9, -1)$ $(\cdot/5)$ صفحه ۱۳۲	۱/۵
۱۵	الف) $O(-1, 0)$, $R=2$ $(\cdot/5)$ ب) $(1, 0)$, $(-3, 0)$ $(\cdot/5)$ صفحات: ۱۴۲	۱
۱۶	$P(A) = \underbrace{\frac{1}{3} \times \frac{3}{5}}_{(\cdot/5)} + \underbrace{\frac{1}{3} \times 1}_{(\cdot/5)} + \underbrace{\frac{1}{3} \times 0}_{(\cdot/5)}$ صفحه ۱۴۷	۱/۵
	" در نهایت، نظر همکاران محترم صائب است "	